

Deuxième activité sur la guerre froide, on fait plus « conventionnel » cette fois-ci avec des documents et des questions sur poly.

2. Le monde devient bipolaire.


→ Comment le monde se divise-t-il en deux juste après 1945 ?

On commence par lire un extrait du discours prononcé par W.Churchill en 1946.

« De Stettin dans la Baltique jusqu'à Trieste dans l'Adriatique, un rideau de fer est descendu à travers le continent. Derrière cette ligne se trouvent toutes les capitales des anciens Etats de l'Europe centrale et orientale. Varsovie, Berlin, Prague, Vienne, Budapest, Belgrade, Bucarest et Sofia, toutes ces villes célèbres et les populations qui les entourent se trouvent dans ce que je dois appeler la sphère soviétique, et toutes sont soumises, sous une forme ou sous une autre, non seulement à l'influence soviétique, mais aussi (...) au contrôle de Moscou. »

Pour continuer soit tu te contentes de la carte ci-dessous, soit tu vas voir la très courte vidéo à l'adresse <https://youtu.be/1gJSOUvhn6s>



 Démocratie populaire : le pouvoir est exercé par le parti communiste

Questions :

- Qu'est-ce que Churchill appelle « rideau de fer » ?
- D'après Churchill, que se passe-t-il pour les pays à l'Est de l'Europe ?
- Qui accuse-t-il ?

Rédige une phrase reprenant les réponses aux questions ci-dessus.

C'est en 1947 que le monde se divise en 2 camps. En trois temps :

Premier temps.

La doctrine Truman.

« Je crois que les Etats-Unis doivent soutenir les peuples libres qui résistent à des tentatives d'asservissement par des minorités armées ou des pressions étrangères. Je crois que notre aide doit consister essentiellement en un soutien économique et financier. »

Harry Truman, mars 1947

Tu recherches qui est Harry Truman et tu recherches la signification des mots que tu ne connais pas. Cette déclaration fait partie d'un discours qui fonde (qui met en place) la « doctrine Truman ».

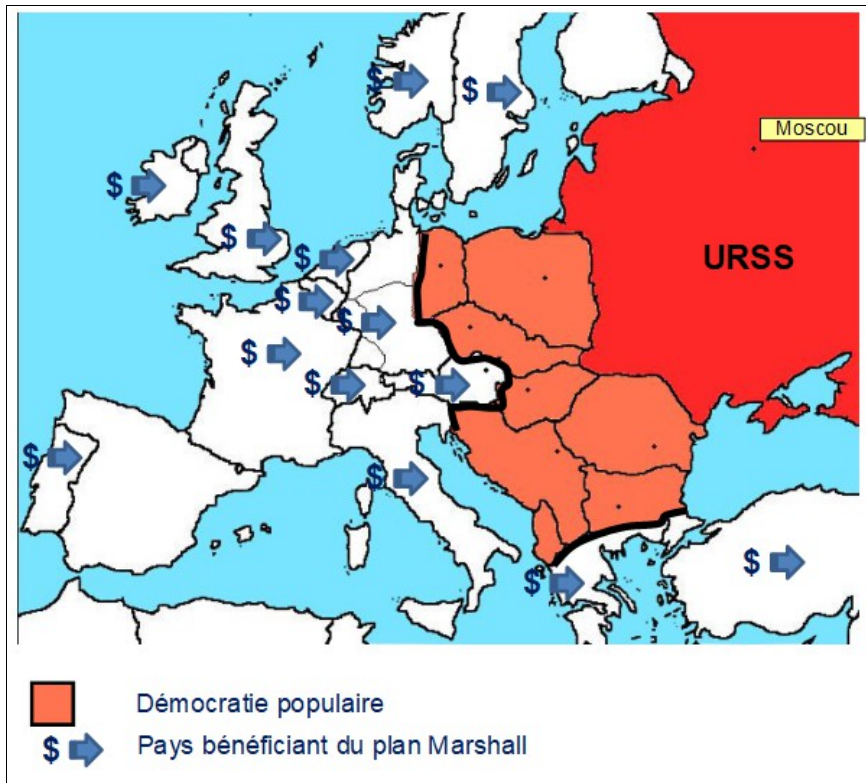
En réfléchissant et en te reportant à l'activité précédente, qui sont « les peuples libres qui résistent à des tentatives d'asservissement » ? Qui sont « des minorités armées ou des pressions étrangères » ? Que doivent faire les USA ?

Il te reste à expliquer en quoi consiste la doctrine Truman :

Tu peux commencer par « en mars 1947, la doctrine Truman... »

Deuxième temps :

Le plan Marshall.



Quels sont les 3 éléments A, B et C sur l'affiche ?

Que se passe-t-il sur cette affiche ? (il faut ici comprendre le message de l'affiche).

En quoi consiste ce plan Marshall ? (sur la carte)

En un mot, quels sont les pays d'Europe qui ont bénéficié de ce plan ?

Il ne te reste plus qu'à rédiger une ou deux phrases pour présenter le plan Marshall.
Tu commences par « En juin 1947, le plan Marshall...

Troisième temps :

La doctrine Jdanov

Discours de Jdanov en octobre 1947 : « Les Etats-Unis sont la force dirigeante du camp impérialiste, soutenus par les pays qui dépendent économiquement des Etats-Unis. L'URSS et les pays de la démocratie nouvelle forment le camp anti-impérialiste qui s'appuie dans tous les pays sur les partis communistes frères. »

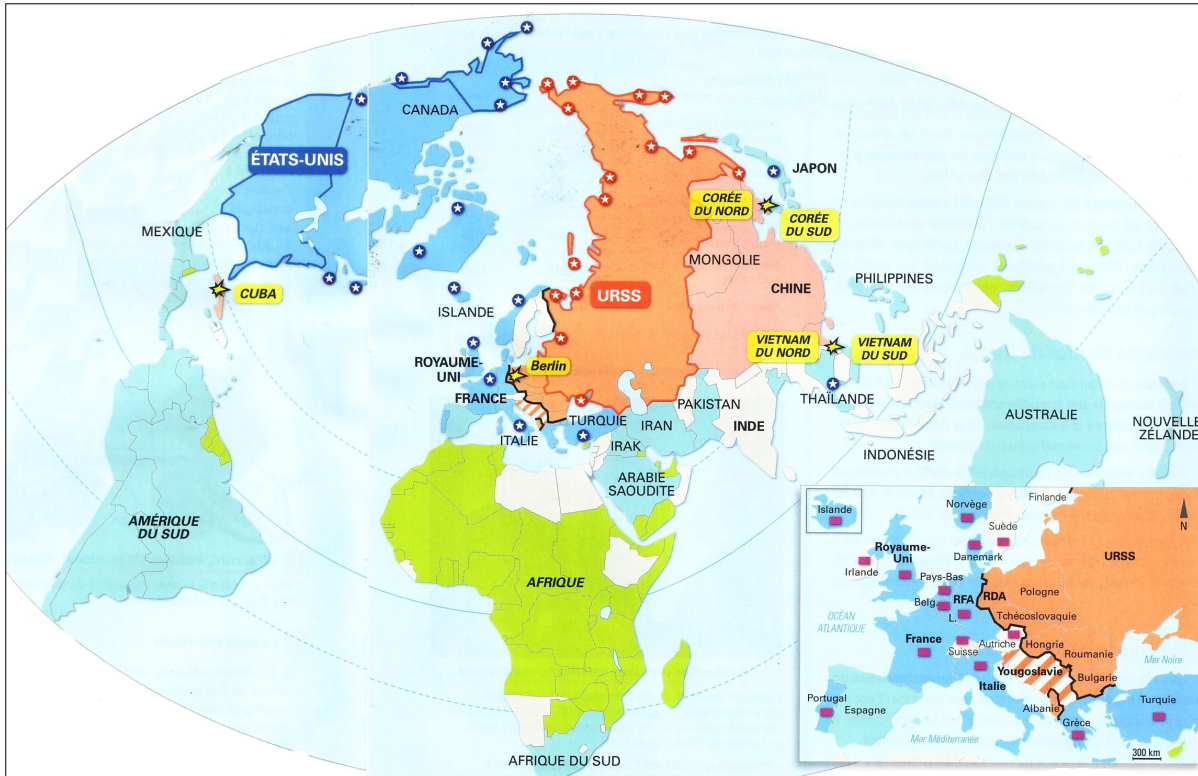
Recherche :

Le pays que Jdanov représente et la signification du mot impérialisme.

Dans ce texte, de quoi Jdanov accuse-t-il les USA ? Qui doit défendre le monde selon lui ?

Rédige une phrase reprenant tes réponses. Elle commence par « Octobre 1947, la doctrine Jdanov...

Pour conclure.



1. Le bloc de l'Ouest dominé par les États-Unis

- Pays leader (États-Unis)
- Pays membre de l'OTAN
- Autres alliés des États-Unis
- Domaine colonial européen
- Pays bénéficiant du Plan Marshall
- Principales bases militaires américaines

2. Le bloc de l'Est dominé par l'URSS

- Pays leader (URSS)
- Pays membre du Pacte de Varsovie et du CAEM
- Autres alliés de l'URSS
- Pays communiste ayant rompu avec l'URSS en 1948
- Principales bases militaires soviétiques

3. La confrontation des deux blocs

- Rideau de fer
- Crises de la guerre froide de 1948 à 1962

5000 km
Échelle à l'équateur

Jdanov en octobre 1947 parle de 2 camps qui s'opposent, sur cette carte, on parle même de 2 blocs...

Rédige une phrase pour chacun de ces 2 blocs répondant aux questions ci-dessous.

Quels est le nom de ce bloc ? Qui sont les pays leaders ? Cite pour chaque bloc un ou 2 pays alliés importants.

Termine en disant sur quel continent ils ont une frontière en commun et quel nom on donne à cette frontière.

J'insiste pour que cette réponse soit rédigée.

Tu peux commencer par « à la fin de l'année 1947, le monde est divisé en 2 blocs... »

Voilà cette activité est terminée. Tu enregistres en ajoutant ton nom au nom du document et tu l'envoies, soit à philippe.vaillant@ac-lille.fr soit à philippe.deldalle@ac-lille.fr

Pour ce qui est du cahier, le mieux sera d'y coller (ou recopier) la correction...
et à bientôt.